



Als  = $\frac{1}{3}$


Maak een
trapezium die
gelijk is aan 1.

1.

Maak een
vijfhoek gelijk
aan $1\frac{1}{4}$ waarbij

 = $\frac{1}{2}$

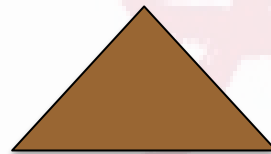
2.

Als  = $\frac{5}{8}$

Maak een
vierkant dat
gelijk is aan $2\frac{1}{2}$


3.

Maak een
vierkant waarbij



$\frac{1}{4}$ deel is van
het totaal


4.



Maak een huis
dat gelijk is
aan 4.


5.

Maak een
rechthoek
waarin



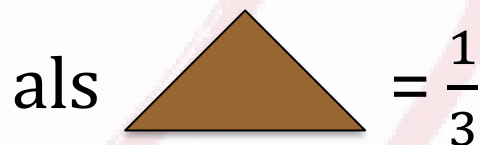
6.

Maak een
parallelogram
waarbij



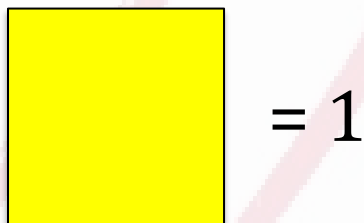
7.

Maak een
driehoek die
gelijk is aan $\frac{4}{3}$



8.

Maak een
vijfhoek met
waarde $3\frac{1}{2}$
waarbij




9.

Als  = $\frac{1}{4}$

Maak een
vierkant van $\frac{1}{8}$

10.

Maak een
driehoek
waarbij



11.

Als  = $\frac{1}{16}$

Maak een
rechthoek van $\frac{1}{2}$

12.

